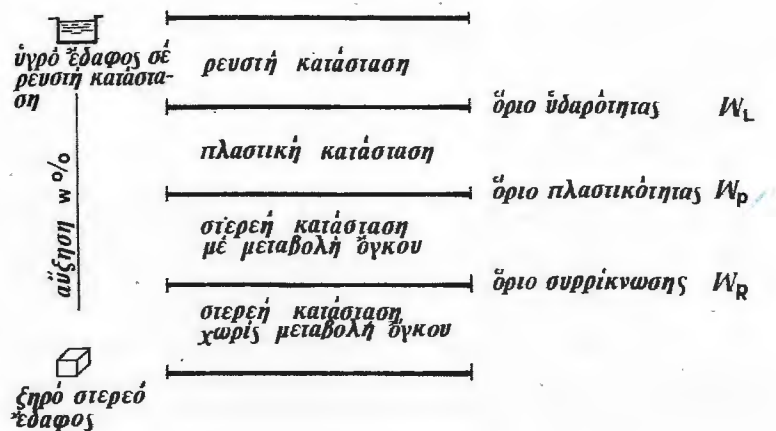


Γιά τὰ λεπτόκοκκα εδάφη τὰ χαρακτηριστότερα φυσικά μεγέθη εἶναι τὰ ὅρια τοῦ *Atterberg* πού εἶναι τὰ ἐξῆς:

- ὄριο ὑδαρότητας W_L
- ὄριο πλαστικότητας W_P
- ὄριο συρρίκνωσης W_R



Σχήμα 1.2

Όρισμοί

Δείκτης πλαστικότητας PI ἢ $IP = W_L - W_P$

Δείκτης ὑδαρότητας LI ἢ $IL = \frac{W_L - W_P}{IP}$ $\frac{w_L - w}{IP}$

Δείκτης αντίστασης $I_C = I - IL$

Ένεργότητα εδάφους $= \frac{IP}{\text{ποσοστό άργιλου του εδάφους \%}}$

ΠΙΝΑΚΑΣ IV : Χαρακτηρισμός τής πλαστικότητας του εδάφους

| Τιμή δείκτη πλαστικότητας IP | 0 ÷ 5 | 5 ÷ 15 | 15 ÷ 40 | > 40 |
|-----------------------------------|------------------------|-------------------------|--------------------|-------------------------|
| Βαθμός πλαστικότητας | Έδαφος ὄχι πλαστικό | Έδαφος λίγο πλαστικό | Έδαφος πλαστικό | Έδαφος πολύ πλαστικό |

ΠΙΝΑΚΑΣ V : Χαρακτηρισμός του βαθμού ενεργότητας του εδάφους

| | | | |
|---------------------------|-----------|-------------|--------|
| Ένεργότητα | 0,75 | 0,75 ÷ 1,25 | 1,25 |
| Χαρακτηρισμός του εδάφους | Μή ενεργό | Κανονικό | Ένεργό |

ΠΙΝΑΚΑΣ VI : Χαρακτηριστικές τιμές όριων Atterberg.

| Έδαφος | w_L | w_p | IP |
|-----------------------|----------|---------|---------|
| Άμμος | — | — | 0 |
| Άμμος κάπως συνεκτική | 10 ÷ 20 | 5 ÷ 20 | 0 ÷ 5 |
| Loess | 23 ÷ 28 | 20 ÷ 23 | 2 ÷ 8 |
| Ίλύς | 15 ÷ 35 | 10 ÷ 25 | 5 ÷ 15 |
| Άργιλος άμμώδης | 25 ÷ 40 | 15 ÷ 20 | 5 ÷ 20 |
| Άργιλος | 40 ÷ 150 | 20 ÷ 50 | 15 ÷ 95 |
| Όργανικά έδαφη | > 200 | > 100 | ~ 100 |

β) Ο βαθμός ομοιομορφίας ενός εδάφους μπορεί να χαρακτηριστεί με το συντελεστή ομοιομορφίας του (συντελεστής *Hazen*), που ορίζεται από τη σχέση :

$$\text{συντελεστής ομοιομορφίας} \quad C_u = \frac{D_{60}}{D_{10}}$$

όπου: $D_{60} = \text{max}$ διάμετρος κόκκων σε ποσοστό < του 60%,

$D_{10} = \text{max}$ διάμετρος κόκκων σε ποσοστό < του 10%.

— Για το έδαφος Α:

$$D_{10} = 0,10 \text{ mm} , \quad D_{60} = 1,60 \text{ mm} \rightarrow C_u = 16.$$

— Για το έδαφος Β:

$$D_{10} = 0,15 \text{ mm} , \quad D_{60} = 0,25 \text{ mm} \rightarrow C_u = 1,67.$$

Επομένως το έδαφος Α έχει καλά διαβαθμισμένη κοκκομετρική καμπύλη ενώ το έδαφος Β είναι ομοιόμορφο ως προς το μέγεθος των κόκκων.

1.7 Ένα αργιλώδες έδαφος έχει όριο υδαρότητας $W_L = 58,60$, όριο πλαστικότητας $W_p = 23,10$ και δείκτη αντίστασης $I_C = 0,44$. Νά υπολογιστούν:

- Ο δείκτης πλαστικότητας IP .
- Ο δείκτης υδαρότητας IL .
- Η περιεκτικότητα σε νερό w .

ΛΥΣΗ

α) Ο δείκτης πλαστικότητας $IP = W_L - W_p$ άρα

$$IP = 58,60 - 23,10 = 35,50.$$

Από τον πίνακα IV φαίνεται ότι το έδαφος μπορεί να χαρακτηριστεί σαν πλαστικό, γιατί:

$$15 < IP = 35,5 < 40.$$

β) Ο δείκτης υδαρότητας προκύπτει από τη σχέση που δίνει το δείκτη αντίστασης:

$$I_C = 1,0 - IL \Rightarrow IL = 1,0 - I_C = 1,0 - 0,44 = 0,56.$$

γ) Η περιεκτικότητα σε νερό προκύπτει από τον τύπο που δίνει το δείκτη υδαρότητας

$$IL = \frac{W_L - w}{IP}$$

άρα $w = W_L - IL \cdot IP = 58,60 - 0,56 \cdot 35,50 = 38,72 \%$.

1.8 Δύο εδάφη έχουν τις παρακάτω ιδιότητες:

| | A | B |
|--------------------------------|-------------------------|-------------------------|
| Όριο υδαρότητας | 0,62 | 0,34 |
| Όριο πλαστικότητας | 0,26 | 0,19 |
| Περιεκτικότητα σε νερό | 38% | 25% |
| Φαιν. βάρος στερεών συστατικών | 2,72 gr/cm ³ | 2,67 gr/cm ³ |
| Βαθμός κορεσμού | 1 | 1 |

Ποιό από τα δύο εδάφη: α) περιέχει περισσότερα άργιλικά συστατικά, β) έχει μεγαλύτερο φαινόμενο βάρος γ , γ) έχει μεγαλύτερο ξηρό φαινόμενο βάρος γ_d και δ) έχει μεγαλύτερο δείκτη πόρων e .

ΛΥΣΗ

α) Η ποσότητα των άργιλικών συστατικών ενός εδάφους είναι σε γενικές γραμμές ανάλογη με την τιμή του δείκτη πλαστικότητας IP , άρα

$$\text{— Έδαφος A: } IP = W_L - W_p = 0,62 - 0,26 = 0,36$$

$$\text{— Έδαφος B: } IP = W_L - W_p = 0,34 - 0,19 = 0,15$$

Άρα το έδαφος Α περιέχει περισσότερα άργιλικά συστατικά.

β) Από τον πίνακα I για κορεσμένα έδαφη έχουμε:

$$\gamma = \frac{w + 1}{w + \frac{1}{\gamma_s}}$$

$$\text{— Έδαφος A: } \gamma = \frac{0,38 + 1}{0,38 + \frac{1}{2,72}} = \frac{1,38}{0,75} = 1,85 \text{ gr/cm}^3$$

$$\text{— Έδαφος B: } \gamma = \frac{0,25 + 1}{0,25 + \frac{1}{2,67}} = \frac{1,25}{0,62} = 2,02 \text{ gr/cm}^3$$

Άρα το έδαφος Β έχει το μεγαλύτερο φαινόμενο βάρος.

γ) Από τον πίνακα I:

$$\gamma_d = \frac{\gamma}{1 + w}$$

$$\text{— Έδαφος A: } \gamma_d = \frac{1,85}{1 + 0,38} = 1,34 \text{ gr/cm}^3$$

$$\text{— Έδαφος B: } \gamma_d = \frac{2,02}{1 + 0,25} = 1,62 \text{ gr/cm}^3.$$

Άρα τό έδαφος B έχει επίσης και τό μεγαλύτερο ξηρό φαινόμενο θάρος.

δ) Άπό τόν πίνακα I (γιά κορεσμένα έδάφη)

$$e = \frac{\gamma_d}{\gamma_w} \cdot w.$$

$$\text{— Έδαφος A: } e = \frac{2,72}{1,00} \cdot 0,38 = 1,03$$

$$\text{— Έδαφος B: } e = \frac{2,67}{1,00} \cdot 0,25 = 0,67$$

Άρα τό έδαφος A έχει τό μεγαλύτερο δείκτη πόρων e .

1.3 Συστήματα ταξινόμησης

Ή ανάγκη ταξινόμησης τών έδαφών ύπαγορεύεται άπό τούς παρακάτω λόγους:

- Γιά όρισμένα μεγάλα τεχνικά έργα, όπως έργα όδοποιίας, κατασκευή άεροδρομίων κλπ., τά έδαφοτεχνικά στοιχεία δέν είναι άπαραίτητο νά λαμβάνονται άπό πλήρη έδαφοτεχνική έρευνα, πού είναι πολυδάπανη και ίσως περιττή, γιατί ένδεχόμενες ζημιές μπορούν νά διορθωθούν μέ τρόπο σχετικά άπλό.
- Σέ όσες περιπτώσεις είναι άπαραίτητη μιά ολοκληρωμένη έδαφοτεχνική έρευνα, ή ταξινόμηση έπιτρέπει τό γενικό χαρακτηρισμό τού έδάφους και καθορίζει ποιές δοκιμές θά γίνουν στή συνέχεια.

Ύπάρχουν πολλά συστήματα ταξινόμησης τών έδαφών πού βασίζονται στήν κοκκομετρική άνάλυση και τά όρια τού *Atterberg*.

Ταξινόμηση έδαφών κατά *Casagrande*

Στό σύστημα ταξινόμησης τού *Casagrande* τό έδαφος πού μελετάται, χαρακτηρίζεται μέ δύο γράμματα: τό πρώτο δίνεται μέ βάση τό έδαφικό κλάσμα πού κυριαρχεί ένώ τό δεύτερο μέ βάση τίς μηχανικές ιδιότητες. Οί συμβολισμοί τού *Casagrande* δίνονται στόν παρακάτω πίνακα:

Σημείο 2':

| | |
|-------------------|--|
| ολική τάση | $\sigma_2 = 0,96 + 1,60 \cdot 2,00 = 4,16 \text{ t/m}^2$ |
| πίεση νερού πόρων | $u_2 = 0$ |
| ένεργός τάση | $\sigma_2 = 4,16 - 0 = 4,16 \text{ t/m}^2$ |

Σημείο 2:

| | |
|-------------------|--|
| ολική τάση | $\sigma_2 = 4,16 + 2,00 \cdot 0,40 = 4,96 \text{ t/m}^2$ |
| πίεση νερού πόρων | $u_2 = 1,00 \cdot 0,40 = 0,40 \text{ t/m}^2$ |
| ένεργός τάση | $\sigma_2' = 4,96 - 0,40 = 4,56 \text{ t/m}^2$ |

Σημείο 3:

| | |
|--------------------|--|
| ολική τάση | $\sigma_3 = 4,96 + 2,20 \cdot 12,00 = 31,36 \text{ t/m}^2$ |
| πίεση ύδατος πόρων | $u_3 = 1,00 \cdot 12,40 + 6,00 = 18,40 \text{ t/m}^2$ |
| ένεργός τάση | $\sigma_3' = 31,36 - 18,40 = 12,96 \text{ t/m}^2$ |

β) Υποθέτουμε ότι το πλάτος της έκσκαφής είναι αρκετά μεγάλο ώστε να μην αναπτύσσονται διατμητικές τάσεις. Για να μην έχουμε θραύση στο επίπεδο έκσκαφής, θα πρέπει η ένεργός τάση στο επίπεδο του ψαμμίτη να είναι ίση με την πίεση του νερού πόρων στη θέση αυτή, δηλ. αν D είναι το βάθος της έκσκαφής από την ελεύθερη επιφάνεια του εδάφους, έχουμε:

$$(15,00 - D) 2,20 = 20,40$$

Άρα

$$D = 15,00 - 9,27 = 5,73.$$

2.4 Διαπερατότητα

Τά προβλήματα της ροής του νερού στο έδαφος αποτελούν αντικείμενο της υπόγειας υδραυλικής. Ειδικά η Έδαφομηχανική ενδιαφέρεται:

1. Για τον προσδιορισμό των υπόγειων παροχών, σχετικά με τη διαπερατότητα, την αποστράγγιση του εδάφους, τη στεγανότητα των χωμάτων κατασκευών κλπ.
2. Για τη μελέτη των δυνάμεων ροής, δηλαδή των δυνάμεων που άσκει το νερό που βρίσκεται σε κίνηση, στους κόκκους του εδάφους. (Τό πρόβλημα παρουσιάζεται στη μελέτη της ισορροπίας των πρηνών, στο φαινόμενο διασωλήνωσης, κλπ.)

3. Στη μελέτη στερεοποίησης των έδαφών, δηλαδή στη μελέτη της έκροψης του νερού λόγω επιφόρτισης του εδάφους, που αναπτύσσεται ειδικά τό κεφάλαιο 8.

Στή συνέχεια εξετάζονται μερικά πρακτικά παραδείγματα σχετικά μέ τίς παραπάνω περιπτώσεις.

ΑΣΚΗΣΕΙΣ

2.4 Νά υπολογιστεί ό συντελεστής διαπερατότητας k μιās άμμου πού έχει τήν παρακάτω κοκκομετρική σύνθεση:

| N° κόσκινου | Διάμετρος όπής κόσκινου (mm) | Ποσοστό πού διέρχεται % |
|----------------------|---------------------------------|----------------------------|
| 20 | 0,840 | 99,90 |
| 40 | 0,420 | 95,00 |
| 60 | 0,250 | 60,00 |
| 80 | 0,177 | 20,00 |
| 200 | 0,074 | 1,50 |

ΛΥΣΗ

Γιά τόν υπολογισμό τής διαπερατότητας των ομοιόρφων άμμων μέ συντελεστή όμοιομορφίας $C_u < 2$ έχει προταθεί από τόν Hazen ή παρακάτω εμπειρική σχέση:

$$k = c D_{10}^2,$$

όπου c = συντελεστής μέ μέση τιμή 100, και

D_{10} = διάμετρος από όπου περνάει τό 10% των κόκκων σε cm .

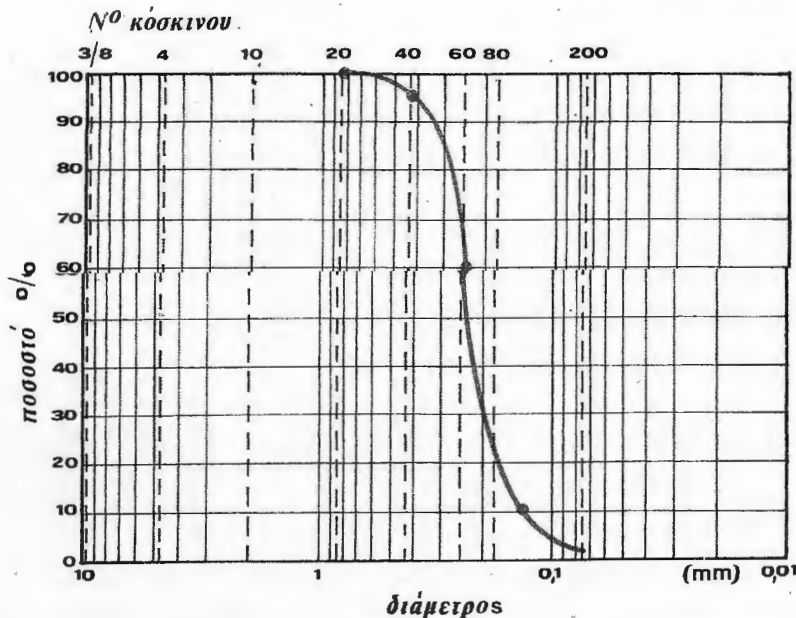
Σχεδιάζοντας τήν κοκκομετρική καμπύλη για τά δεδομένα τής άσκησης έχουμε τήν καμπύλη του σχήματος 2.9.

Ό συντελεστής όμοιομορφίας είναι:

$$C_u = \frac{D_{60}}{D_{10}} = \frac{0,25}{0,14} = 1,8 < 2.$$

Άρα, με ικανοποιητική προσέγγιση:

$$k = 100 \cdot 0,014^2 = 1,96 \cdot 10^{-2} \text{ cm/sec.}$$



Σχήμα 2.9

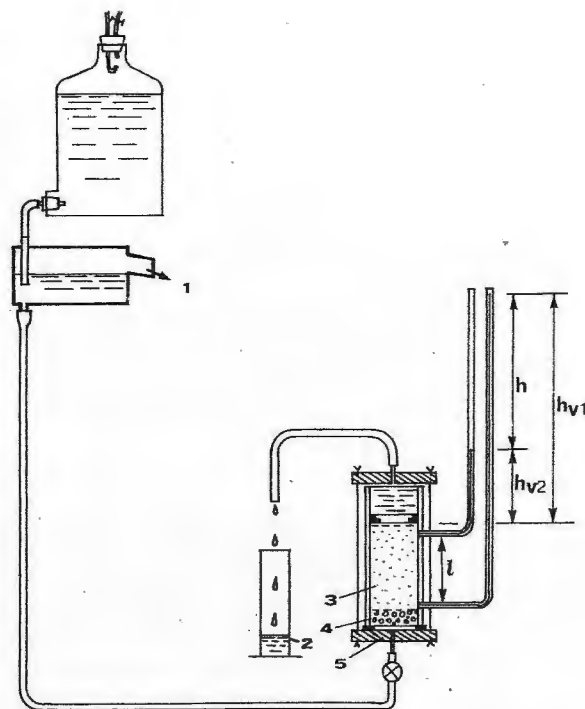
2.5 Ο υπολογισμός της διαπερατότητας γίνεται στο εργαστήριο χρησιμοποιώντας διαπερατόμετρα που διακρίνονται σε διαπερατόμετρα σταθερού και σε διαπερατόμετρα μεταβλητού φορτίου. Τά πρώτα χρησιμοποιούνται για τίς τιμές του k μέχρι 10^{-3} cm/sec ενώ τά δεύτερα για τίς τιμές του k από 10^{-3} — 10^{-6} cm/sec.

ΛΥΣΗ

Στό σχήμα 2.10 φαίνεται ένα διαπερατόμετρο σταθερού φορτίου. Στό διαπερατόμετρο σταθερού φορτίου τό πιεζομετρικό ύψος h και ή υδραυλική βαθμίδα $i = \frac{h}{l}$ παραμένουν σταθερά και μετρούμε τήν παροχή Q για ένα ορισμένο χρονικό διάστημα t . Η διαπερατότητα k δίνεται από τή σχέση:

$$k = \frac{Q}{i A t}$$

όπου A = ή διατομή του δοκίμιου.



Σχήμα 2.10. Διαπερόμετρο σταθερού φορτίου.

1. Υπερχείλιση. 2. Κύλινδρος μέτρησης. 3. Δοκίμιο. 4. Πορώδης λίθος. 5. Βάση.

Γιά $h = 80,00 \text{ cm}$, $l = 6,00 \text{ cm}$, $A = 78,50 \text{ cm}^2$, $Q = 314 \text{ cm}^3$ και $t = 60 \text{ sec}$, έχουμε:

$$k = \frac{314}{\frac{80,0}{6,00} \cdot 78,50 \cdot 60} = 5 \cdot 10^{-3} \text{ cm/sec}.$$

2.6 Νά προσδιοριστεί ο συντελεστής διαπερατότητας k μιάς λεπτής άμμου με τή μέθοδο του διαπερατόμετρου μεταβλητού φορτίου, πού φαίνεται στο σχήμα 2.11, αν $l = 4,00 \text{ cm}$, $A = 78,50 \text{ cm}^2$, $a = 0,95 \text{ cm}^2$ και γιά

$$\begin{aligned} t_1 &= 0 & h_1 &= 110,00 \text{ cm} \\ t_2 &= 720 \text{ sec} & h_2 &= 65,00 \text{ cm}. \end{aligned}$$

ΛΥΣΗ

Ή διαπερατότητα στο διαπερατόμετρο μεταβλητού φορτίου δίνεται από τή σχέση

$$k = \frac{2,3 a l}{A t} \log \frac{h_1}{h_2},$$

δηλαδή

$$k = \frac{2,30 \cdot 0,95 \cdot 4,00}{78,50 \cdot 720} \cdot \log \frac{110,00}{65,00} = 3,50 \cdot 10^{-5} \text{ cm/sec}.$$